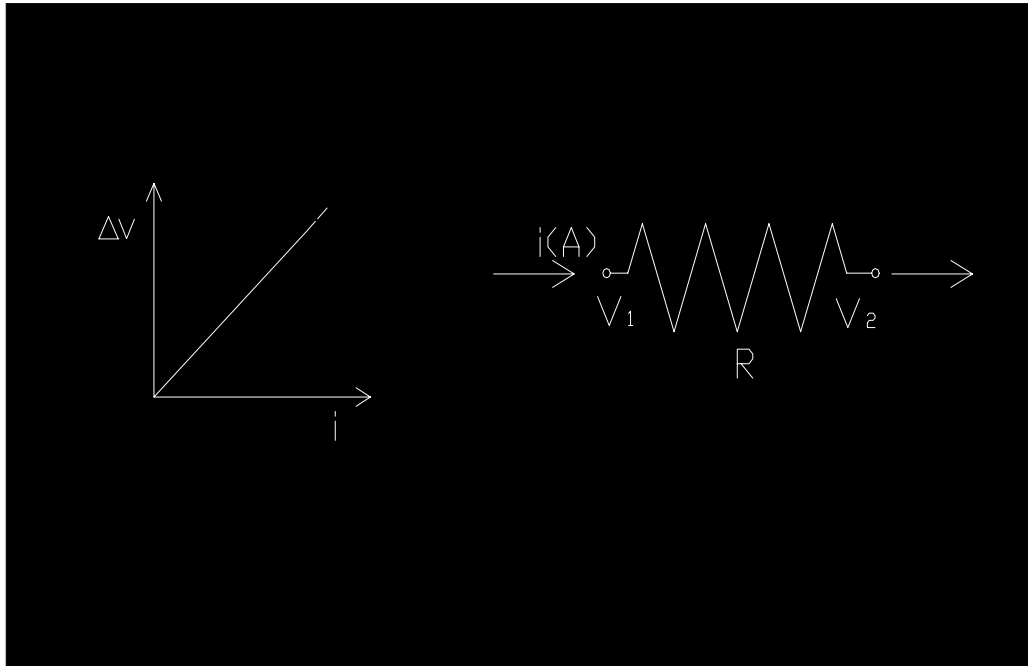


Nello studio di circuiti composti da *ingresso-conduttore-uscita* possiamo applicare la :

### LEGGE DI OHM

$$i = \frac{V_1 - V_2}{R} = G(V_1 - V_2) \quad \text{poiché } G = \frac{1}{R}$$

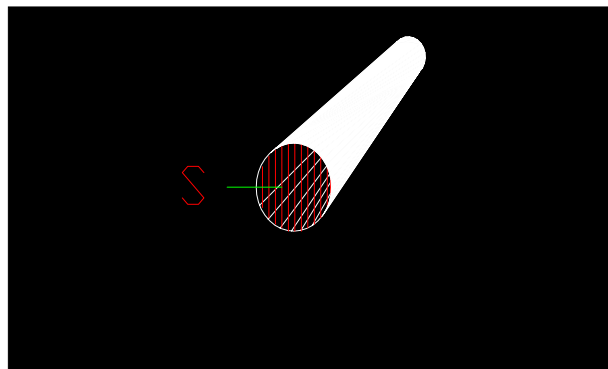


La legge di Ohm ci dice che differenza di potenziale e corrente sono direttamente proporzionali, cioè sono legati da un fenomeno lineare (come mostra il grafico).

Definiamo ora la potenza termica ( Q ) e la resistenza termica (Rt):

$$Q = K \cdot S \cdot \Delta t \quad \text{si esprime in W}$$

dove K è il coeff. Globale di scambio termico, che in questo caso, parlando dell'elettricità, si chiama anche **Conduttanza termica** per unità di sup.(g)  
S è la superficie di scambio, nel caso di un tubo si considera la sezione.



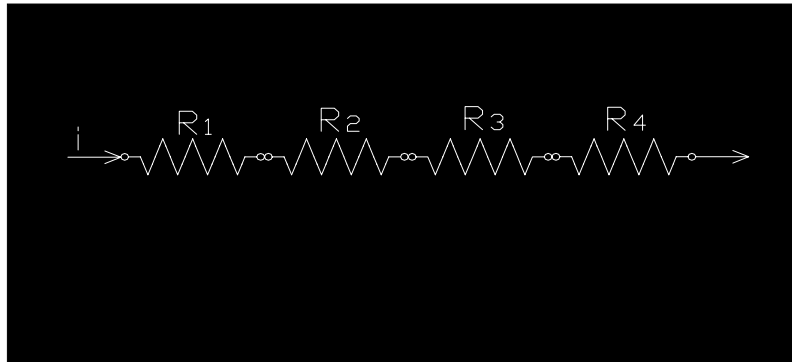
$$Rt = \frac{\Delta t}{Q}$$

Possiamo anche definire la resistenza in funzione della conduttanza termica:

$$Rt = \frac{1}{Gt} = \frac{1}{K \cdot S} = \frac{1}{g \cdot S}$$

osserviamo che il coeff. di scambio termico “K” è la conduttanza termica per unità di sup. cioè  $K = g = \frac{\lambda}{L}$

Notiamo inoltre che la conduttanza Gt dipende dalla sezione S



Una proprietà indispensabile per risolvere i problemi, ci dice che la resistenza complessiva di una serie di resistenze è uguale alla somma di ogni singola resistenza parziale per cui se

$$R_1 = \frac{L_1}{\lambda_1 \cdot S} \quad R_2 = \frac{L_2}{\lambda_2 \cdot S} \quad \dots \quad R_{tot} = R_1 + R_2 + R_3 + R_4 \Rightarrow R_{tot} = \frac{1}{S} \left( \frac{L_1}{\lambda_1} + \frac{L_2}{\lambda_2} + \dots \right)$$

$$Q = \frac{1}{R_{TOT}} \cdot (T_{INT} - T_{EST})$$

possiamo ricavare direttamente lo scambio di energia elettrica totale Q, sempre che la sezione o la superficie considerata

$$Q = \frac{S}{\frac{L_1}{\lambda_1} + \frac{L_2}{\lambda_2} + \dots} (T_{INT} - T_{EST})$$

rimanga costante.

## ESERCIZI

### Esercizio n.1

Conoscendo lo spessore e il salto di temperatura tra ambiente interno e ambiente esterno, calcolare la potenza termica Q catturata dalla parete.

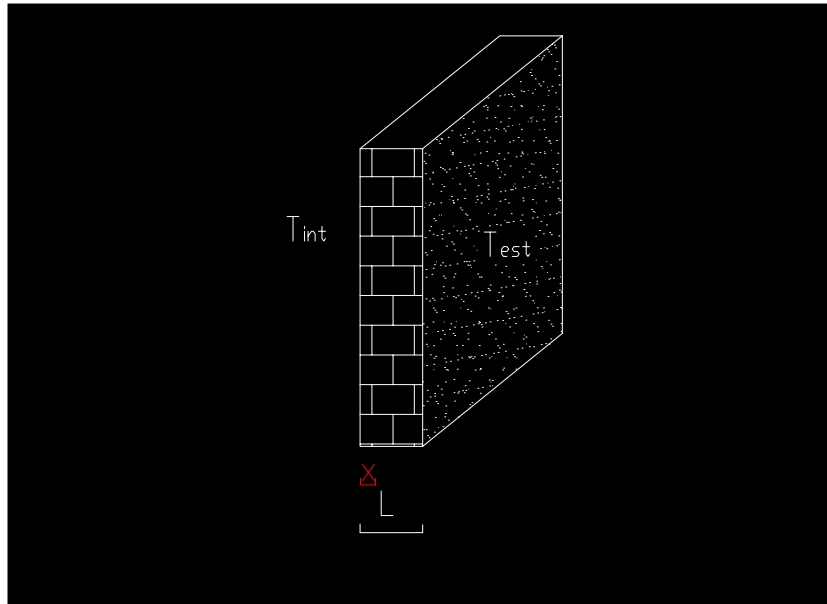
Dati:

spessore L = 20 cm

Tint = 20° C

Test = 0° C

superficie S = 10 mq



***1 lastra piana***

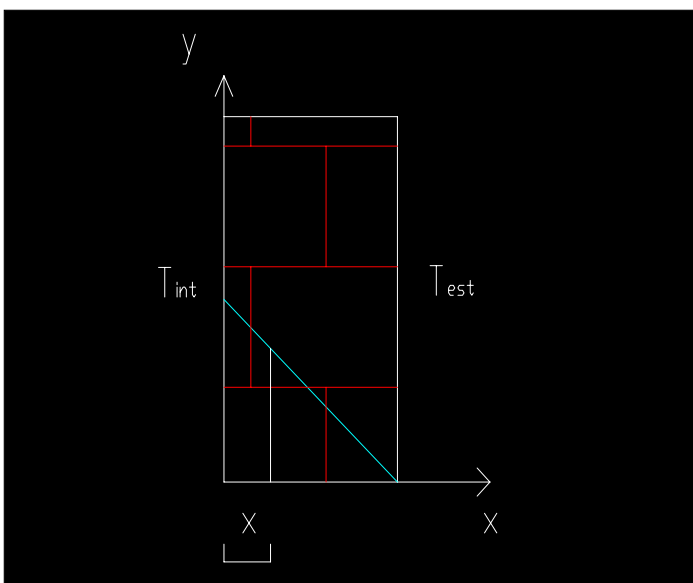
Il valore di  $\lambda$  del laterizio si ricava dalle tabelle  $\rightarrow 0,7 \text{ w/mk}$

$$Q = \frac{\lambda}{L} \cdot S(T_1 - T_2) = \frac{0,7}{0,20} \cdot 10 \cdot 20 = 700 \text{ watt}$$

Se volessi conoscere il valore della temp. in un punto intermedio della sezione ad una distanza  $x = 5\text{cm}$ ?

Sostituendo i valori nell'equazione precedente l'unica incognita rimane  $T_x$  :

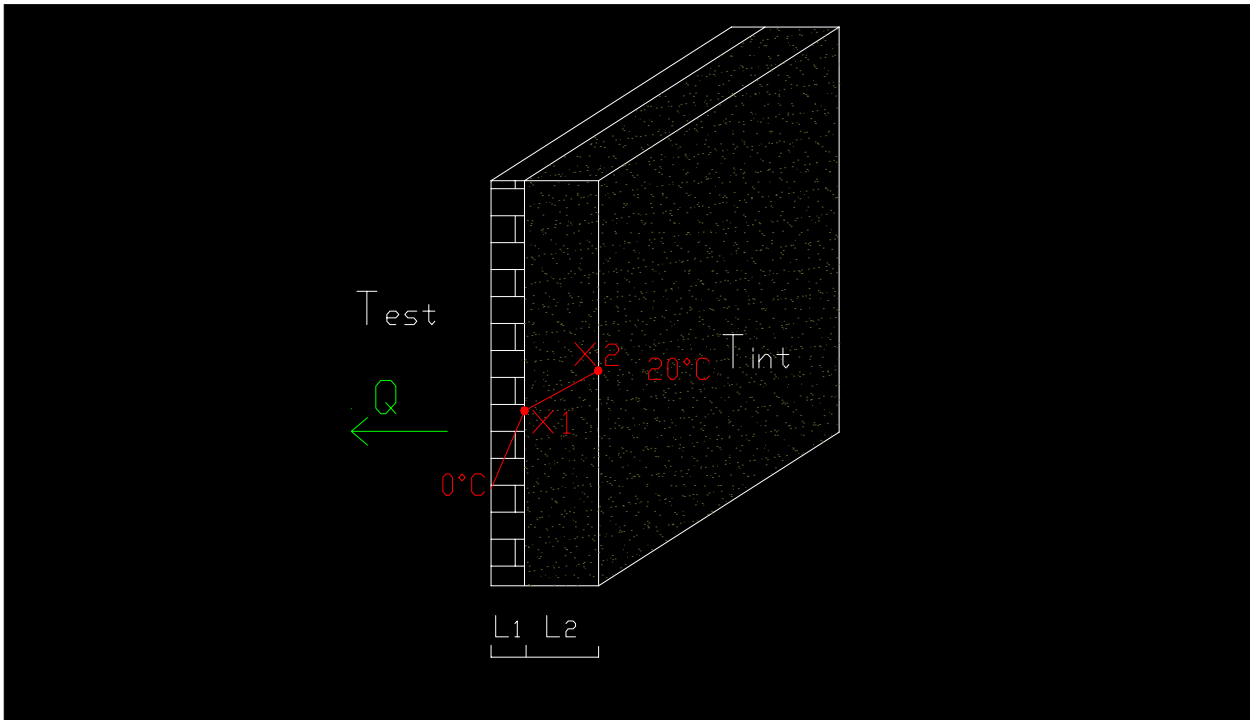
$$Q = \frac{\lambda}{x} \cdot S(T_1 - T_x) \Rightarrow T_x = T_1 - \frac{Q}{\frac{\lambda}{x} \cdot S} \quad \text{è l'equazione di una retta di 1° grado}$$



Perciò per per  $x=5\text{ cm}$   $T_x = 20 - 0.05 \frac{700}{0.7 \cdot 10} = 15$

**Esercizio n.2**

Trovare la quantità di calore assorbita e la temperatura del punto  $x_1$ , nella parete composta dai due strati indicati:



$L_1 = 5\text{ cm}$  (parete in forati)

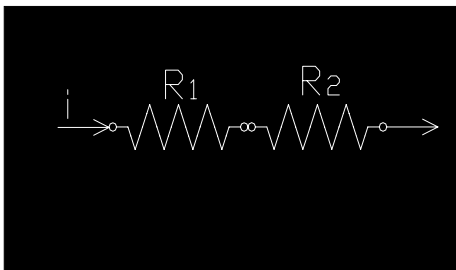
$L_2 = 10\text{ cm}$  (parete in cls)

$S = 10\text{ mq}$

$$\lambda_1 = 0.5 \frac{w}{mk} \quad R_1 = \frac{L_1}{\lambda_1 \cdot S} = \frac{0.05}{0.5 \cdot 10} = 0.01 \frac{k}{w}$$

$$\lambda_2 = 1.5 \frac{w}{mk} \quad R_2 = \frac{L_2}{\lambda_2 \cdot S} = \frac{0.10}{1.5 \cdot 10} = 6.67 \cdot 10^{-3} \frac{k}{w}$$

$$R_{TOT} = 0.01 + 0.0067 = 0.0167 \frac{k}{w}$$



**Ora possiamo calcolare la potenza termica scambiata:**

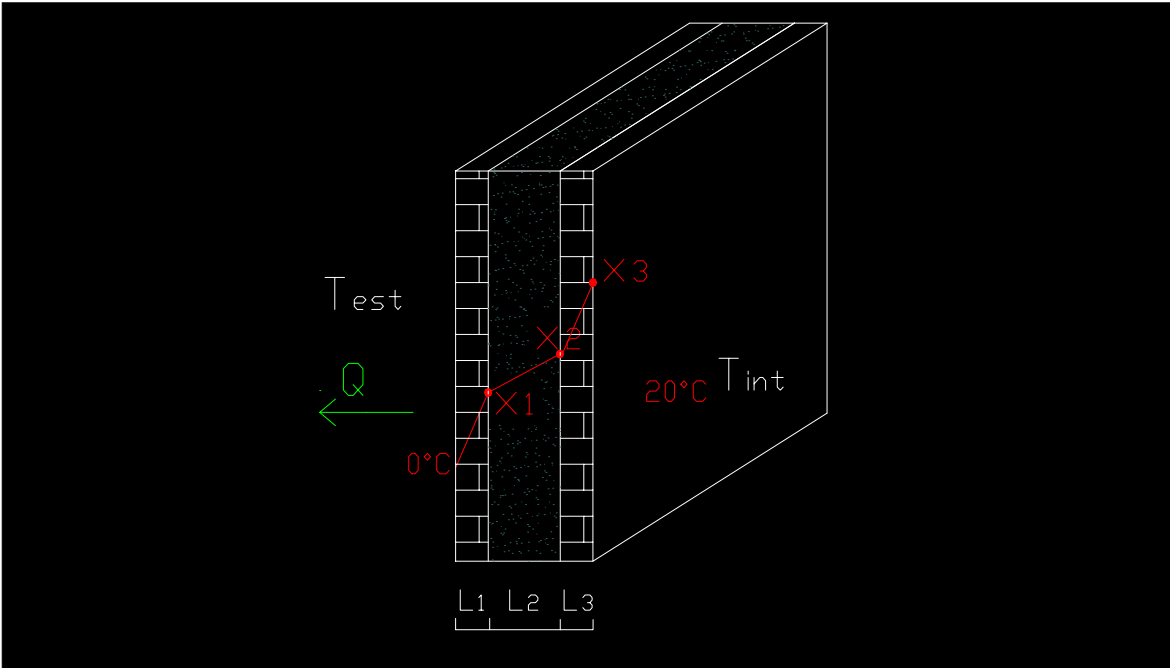
$$Q = \frac{\Delta t}{R_{tot}} = \frac{20}{0.0167} = 1200w$$

Troviamo ora la temperatura nel punto richiesto:

$$Q = \frac{\lambda_1}{x_1} \cdot S(T_{x1} - T_1) \xrightarrow{T_1=0} T_{x1} = \frac{Q}{\lambda_1 \cdot S} \cdot L_1 = \frac{1200}{0.5 \cdot 10} = 12^\circ C$$

**Esercizio n.3**

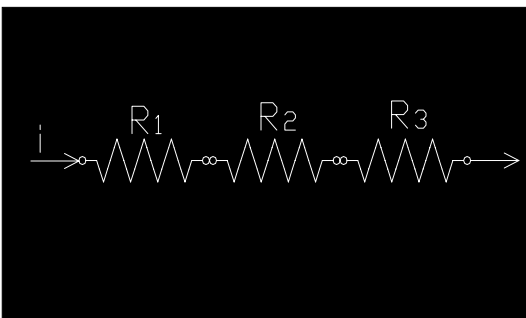
Ripetere l'esercizio precedente considerando un muro composto da tre strati come in figura.



$$R_1=R_3=0.01 \frac{k}{w}$$

$$R_2=0.0067 \frac{k}{w}$$

$$R_{tot}=R_1+R_2+R_3=0.0267 \frac{k}{w}$$



**Calcolo lo scambio totale:**

$$Q = \frac{\Delta t}{R_{tot}} = \frac{20}{0.0267} = 750w$$

$$T_{x1} = 0^{\circ}C + \frac{Q}{\lambda_1 \cdot S} \cdot L_1 = \frac{750}{0.5 \cdot 10} \cdot 0.05 = 7.5^{\circ}C$$

$$T_{x2} = T_{x1} + \frac{Q}{\lambda_2 \cdot S} \cdot L_2 = 7.5 + \frac{750}{1.5 \cdot 10} \cdot 0.10 = 12.5^{\circ}C$$